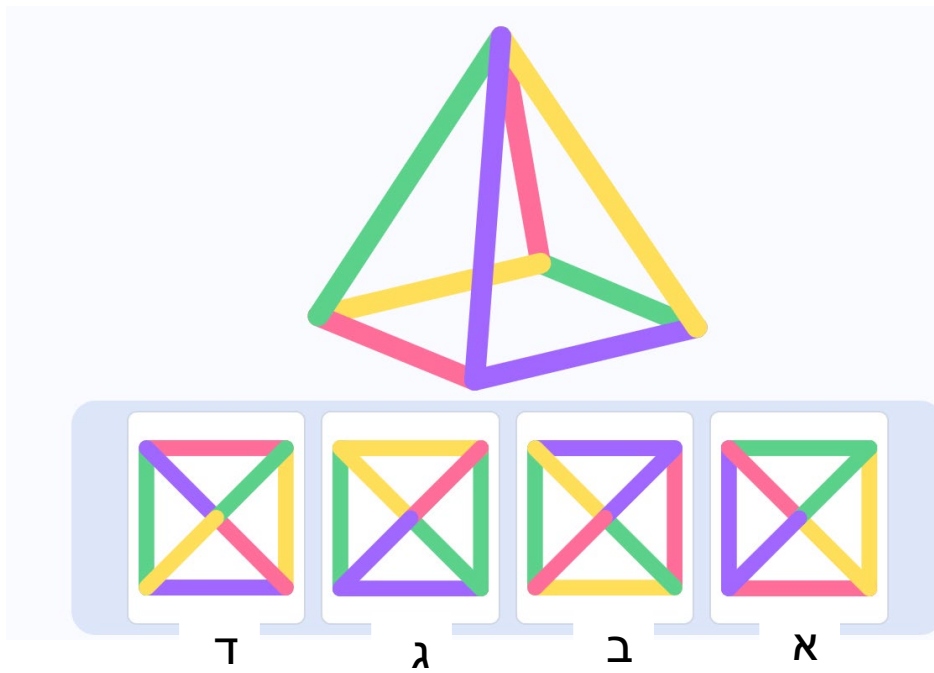


1. מסתכלים לפירמידה מלמעלה. איזו תמונה רואים?



2. כמה עולה קוביה של גבינה צהובה?

4      3      1      2

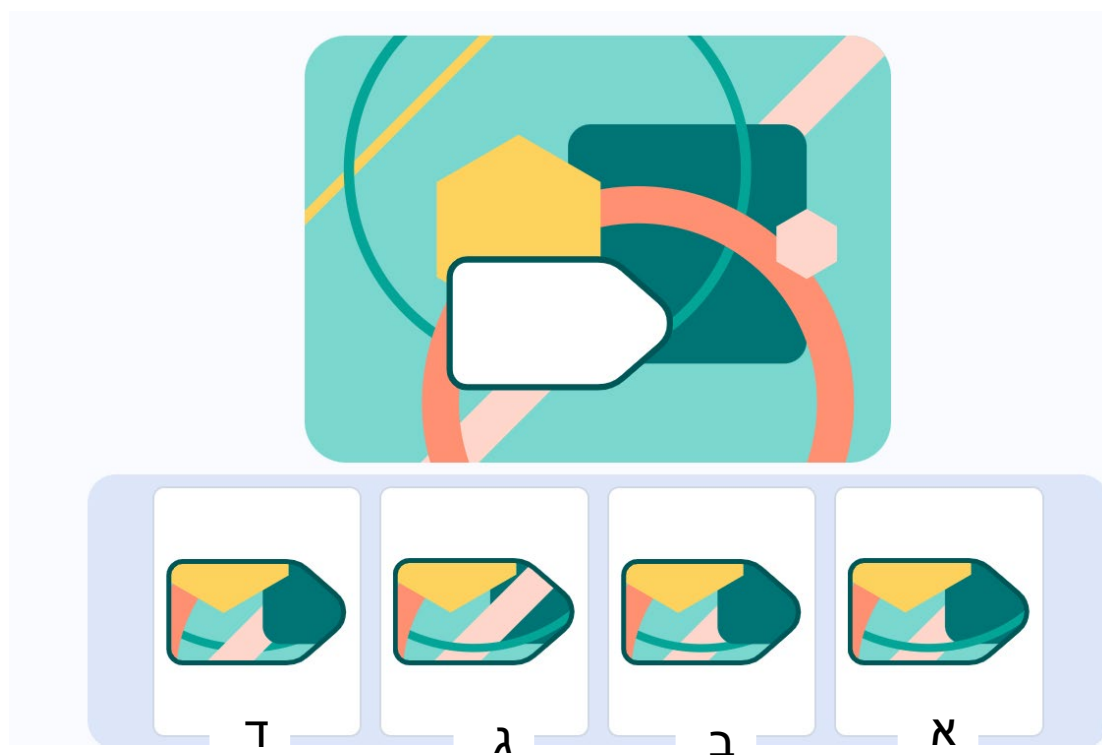
ד      ג      ב      א

3. עפרון ירוק נמצא בין ורוד וצהוב. בקצוות עפרונות בגדלים שונים. העפרונות הארוכים אחד ליד השני הכחול לא ראשון. איזה עפרון נמצא במקום השני?

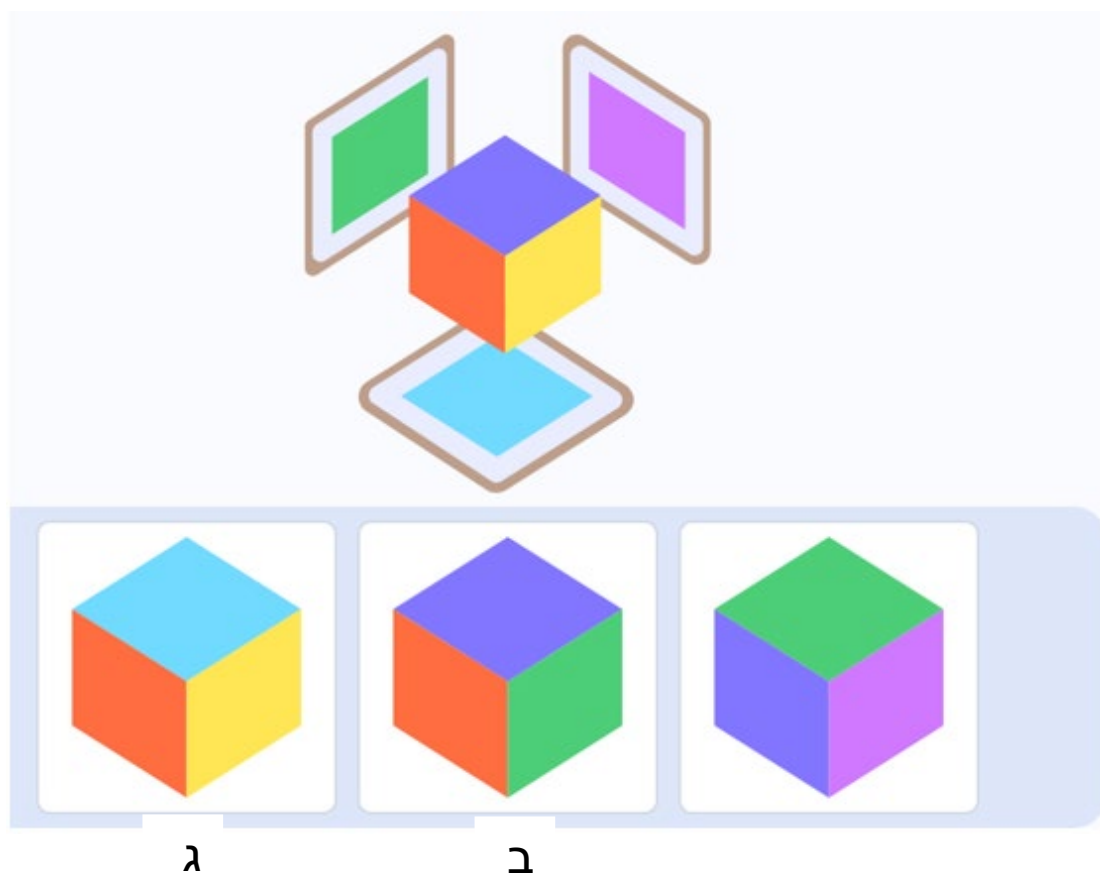


כחול      ירוק      צהוב      אדום      ורוד

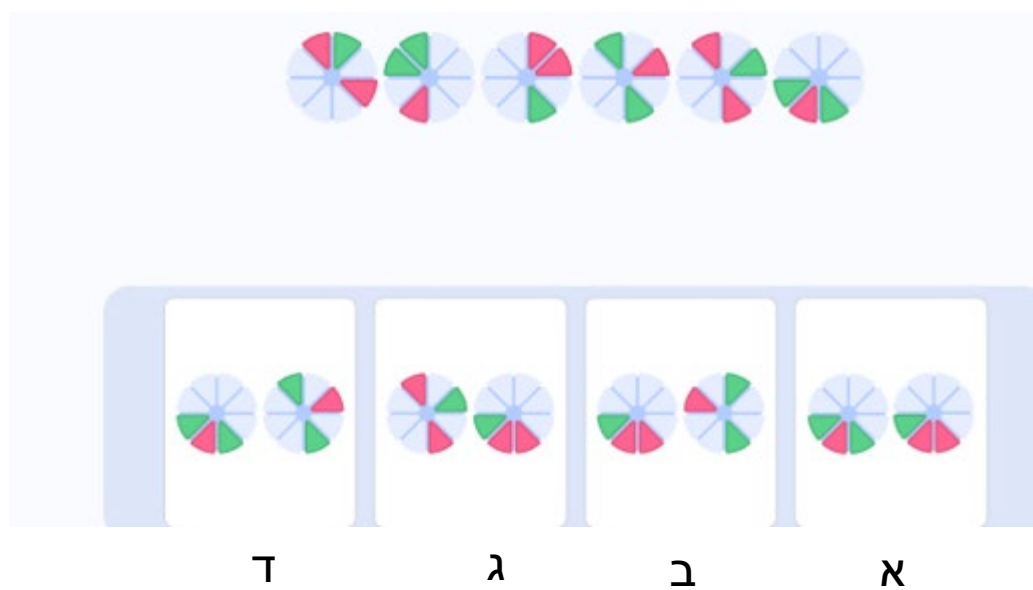
4. בחרו את החלק החסר



5. שלוש פאות של קוביה משתקפים במראה. בחרו קוביה מתאימה.



6. בחרו זוג עיגולים שמתאים להמשך השורה



7. על התמונה יוסי, דוד ומשה. דוד עם מסכה צהובה. משה ליד ילד עם מסכה אדומה. מי עם מסכה ירוקה?

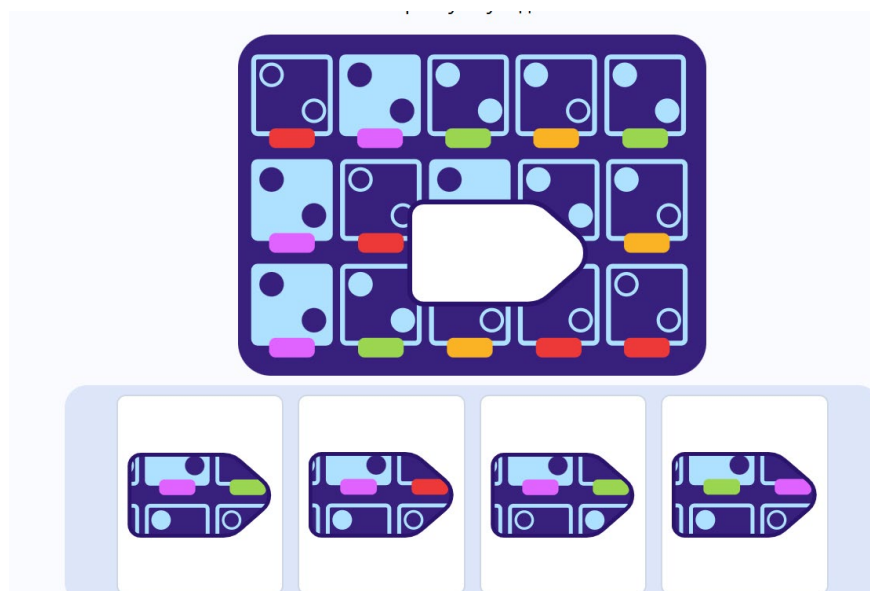


דוד

משה

יוסי

8. בחרו את החלק החסר



ד

ג

ב

א

9. בחרו מספר מתאים להמשך הסדרה

13, 23, 91, 34, ...

53

82

50

37

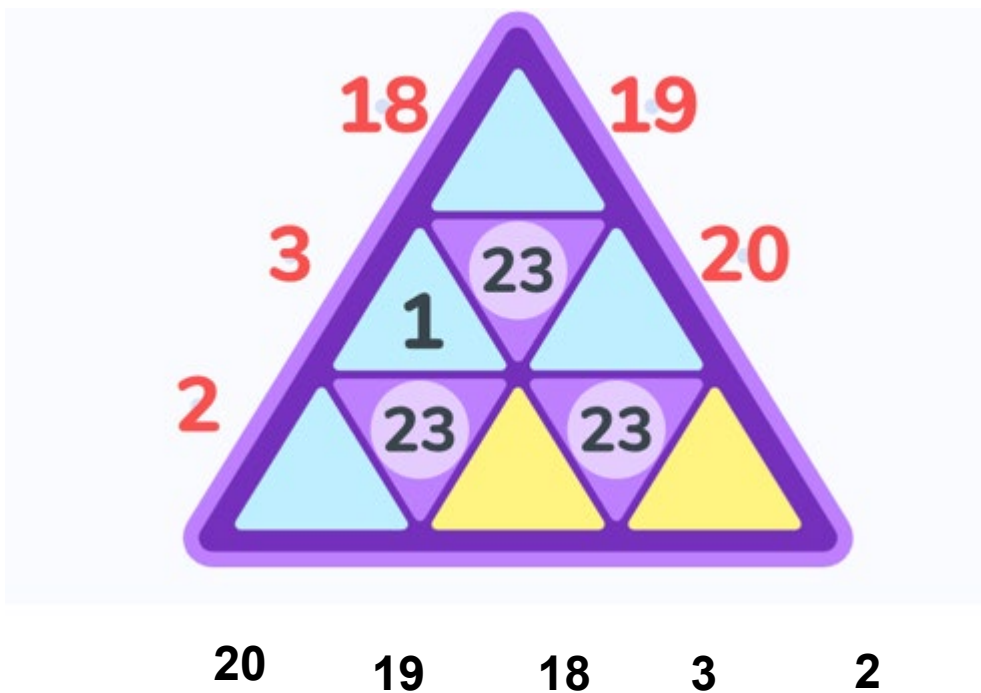
ד

ג


ב

א

10. הכניסו את המספרים האדומים למקומות הריקים. מספר בעיגול הוא סכום המספרים שנמצאים בסביבו. המספרים במשולשים צהובים או ששניים זוגיים או ששניים אי זוגיים. מהו המספר שנמצא במשולש העליון?



11. תיבה בנויה מ- 36 קוביות זהות.. בתוך התיבה מסתרים קוביות אדומות. כל הקוביות שאפשר לראות אותן הן צהובות. מה כמות המקסימלית של קוביות אדומות שיכולות להיות בין 36 קוביות שמהן בנויה התיבה?



6      5      4      3      2      1